

Шифр 05М5-14

Муниципальное образование «Гурьевский муниципальный округ»
ВСЕРОССИЙСКАЯ ОЛИМПИАДА ШКОЛЬНИКОВ ПО ОБЖ

(школьный этап)

2023 – 2024 учебный год

5-6 классы

1528

Время выполнения: 45 минут

Тестовые задания

Определите один правильный ответ.

За правильный ответ начисляется 4 балла. 0 баллов выставляется за
неправильный ответ, а также если участником отмечено более одного

ответа (в том числе правильный).

1. Пешход

- а) всегда является участником дорожного движения
- б) не является участником дорожного движения
- в) является участником дорожного движения только в возрасте старше 16 лет
- г) не является участником дорожного движения в возрасте до 14 лет

2. Какой вид костра рекомендуется использовать только для

ночевки?

- а) «шалаш»
- б) «пирמידа»
- в) «колодец»
- г) «полинезийский»

3. В октябре 1960 г. шесть кандидатов на первый полёт в космос

приступили к занятиям на тренажёре космического корабля, названного так же, как и одна из сторон света. Как назывался

космический корабль?

- а) «Запад»
- б) «Север»
- в) «Восток»
- г) «Юг»

4. Находясь на эскалаторе, необходимо

а) стоять справа лицом по направлению его движения

б) стоять слева лицом по направлению его движения

в) стоять справа лицом по направлению его движения

г) стоять слева лицом по направлению его движения

одного человека?

- 4
- а) не менее 7 см
 - б) не менее 10 см
 - в) не менее 5 см
 - г) не менее 12 см

6. Об обнаружении бесхозного предмета в вагоне метро в первую очередь необходимо сообщить

- а) машинисту по экстренной связи «пассажиры-машинист»
- б) в полицию по сотовому телефону
- в) дежурному по станции после прибытия на неё состава
- г) пассажирам вагона голосом

7. При переходе водоёма по льду показан рекомендуемая повесить на

- а) оба плеча
- б) одно плечо
- в) грудь
- г) оба плеча и сцепить лямки рюкзака между собой

8. Ведущий фактор, оказывающий влияние на здоровье человека, по данным Всемирной организации здравоохранения, -

- а) наследственность
- б) состояние окружающей среды
- в) образ жизни
- г) уровень медицинского обеспечения

9. Пострадавший поранил руку. Кровь из раны вытекает равномерно, не пульсирует, темно-красного цвета. Какой вид кровотечения можно заподозрить?

- а) артериальное
- б) венозное
- в) капиллярное
- г) паренхиматозное

10. Какое подручное средство рекомендуется использовать для остановки венозного кровотечения?

- а) кровоостанавливающий жгут
- б) брючный ремень
- в) чистую ткань
- г) тонкий шнур

Определите два правильных ответа.

За каждый правильный ответ начисляется 4 балла.

1. Определите смысловое значение и область применения данного знака безопасности на объектах инфраструктуры ОАО «РЖД».

- а) «Запрещается прикасаться. Корпус под напряжением»
- б) «Самовольное открытие и задержка закрытия дверей не допускается!»
- в) размещается в непосредственной близости от входных дверей в вокзалы
- г) «Внимание. Опасность зажима».
- д) наклеивается в тамбурах возле автоматических дверей, ведущих на выход



2. Определите смысловое значение и группу данного знака безопасности.

- а) запрещающий знак
- б) «Запрещается прикасаться. Опасно»
- в) «Запрещается нажимать»
- г) предупреждающий знак
- д) «Не включать!»



3. Костёр ночью оптимально использовать для

- а) просушки вещей
- б) подачи светового сигнала
- в) обогрева
- г) приготовления пищи
- д) ночёвки

4. Что может являться источником природной ЧС?

- а) зазор
- б) химическая авария
- в) эпидемия
- г) обвал
- д) катастрофа

5. К признакам возникновения урагана относят

- а) резкое падение атмосферного давления
- б) повышение температуры воздуха
- в) резкое прекращение дождя
- г) ливневые дожди
- д) быстрое исчезновение грозовых облаков

6. К опасным гидрологическим явлениям и процессам относят

- а) карст

- 8
 а) наложение нетугой повязки
 б) вскрытие ожоговых пузырей
 в) смазывание повреждённого участка жирами
 г) охлаждение повреждённого участка
 д) иммобилизация при глубоких ожогах
10. Какие действия запрещены при оказании первой помощи пострадавшему с термическим ожогом?
- а) может говорить
 б) не может говорить
 в) кашляет
 г) дыхание значительно затруднено (шумное, хриплое)
 д) дыхание отсутствует
9. Какие признаки свидетельствуют о наличии у пострадавшего частичной обструкции дыхательных путей при попадании в них инородного тела?
- а) образ жизни
 б) наследственность
 в) уровень медицинского обеспечения
 г) регулярность диспансеризации
 д) состояние окружающей среды
8. Выберите группы факторов, которые оказывают равноценное влияние на здоровье человека по данным Всемирной организации здравоохранения.
- а) образ жизни
 б) наследственность
 в) уровень медицинского обеспечения
 г) регулярность диспансеризации
 д) состояние окружающей среды
7. В каком положении лучше держать руки, оказавшись в толпе?
- а) перед грудью
 б) перед лицом
 в) отвести сильно в стороны
 г) сцепить в замок
 д) в карманах
- а) град
 б) ливень
 в) лавину (снежную)
 д) селя

Задание 1

Расположите предложенные фрагменты в верной последовательности, чтобы в итоге получилось определение одного из участников дорожного движения.

Оценка задания. Максимальная оценка за выполненное задание – 20 баллов

1	+2
2	+1
3	-1
4	-1
5	+3

1. вне транспортного средства на
2. лицо, находящееся
3. не производящее на них работу
4. велосипедной дорожке и дороге
- 5) либо на пешеходной или

Задание 2

Оценка задания. Максимальная оценка за выполненное задание – 20 баллов

Выберите пять правил безопасности на эскалаторе.

1. Стой справа, лицом по направлению движения.
2. Если нужно спуститься, то делай это с правой стороны, при этом не держись за поручень.
3. Стой слева, лицом по направлению движения.
4. Если нужно спуститься, то делай это с левой стороны и держись за поручень.
5. Не наступать на ограничительную линию на ступенях и не задерживаться при спходе с эскалатора.
6. При спходе с эскалатора остановись и осмотрись, прежде чем сделать шаг.
7. На эскалаторе нельзя сидеть и бегать.
8. Сидеть на ступенях эскалатора можно только по направлению движения.
9. Не ставить вещи на ступени и поручни.
10. На ступени и поручни можно ставить вещи, сумма измерений которых по длине, ширине и высоте не превышает 150 см.

Задание 3

Оценка задания. Максимальная оценка за правильное выполнение задания – 20 баллов

Объекты железнодорожного транспорта являются зонами повышенной опасности, на которых действия определённые правила поведения. Укажите, какие действия запрещены, а какие необходимо выполнять с целью обеспечения безопасности на объектах железнодорожного транспорта.

<p>А. запрещённые действия</p>		<p>1. перед переходом через железнодорожные пути по пешеходному настилу обеспечивать личную зону видимости</p> <p>2. прыгать с пассажирской платформы</p> <p>3. ходить вдоль железнодорожных путей</p> <p>4. подавать сигнал для остановки поезда в случаях возникновения ситуации, требующей экстренной остановки железнодорожного подвижного состава</p> <p>5. передвигаться на самокатах и роликовых коньках</p>
<p>Б. необходимые действия</p>		

90

Задание 4

Оценка задания. Максимальная оценка за правильно выполненное задание – 20 баллов

Выберите безопасные и небезопасные действия во время грозы.

1. прятаться под низкими деревьями и кустарниками	+		1) 9)
2. прижаться спиной к стволу дерева	+		3)
3. сидеть в позе эмбриона	+		А. безопасно
4. распластаться на земле	+		6)
5. встать под одинокое дерево, стог сена, столб	+		8)
6. сесть как можно ниже	+		2)
7. подняться на возвышенность	+		4)
8. при нахождении в воде выйти из воды и отойти от неё не менее чем на 100 м	+		5)
9. не приближаться к одиноко стоящим объектам	+		Б. небезопасно
10. при нахождении в воде подойти ближе к низкорослой растительности, находящейся в воде	+		7)
			10

20

08

- Винтовые повязки накладываются по определенным правилам. Определите, пять правил наложения бинтовых повязок, которые являются верными.
1. Во время перевязки рекомендується стоять лицом к пострадавшему (по возможности)
2. Расположение человека, накладывающего повязку, относительно пострадавшего не имеет значения
3. Положение перевязываемой части тела можно менять в процессе перевязки
4. Положение перевязываемой части тела нельзя менять в процессе перевязки
5. Ширина бинта должна быть равна или больше диаметра перевязываемой конечности
6. Ширина бинта должна быть меньше диаметра перевязываемой части тела
7. Туры бинта накладываются по часовой стрелке относительно бинтуемого (примущественно)
8. Туры бинта накладываются всегда против часовой стрелки относительно бинтуемого
9. Повязку следует начинать накладывать с более узкого места, постепенно переходя к более широкому
10. Повязку следует начинать накладывать с более широкого места, постепенно переходя к более узкому

Задание 5

Оценка задания. Максимальная оценка за правильное выполнение задания –

20 баллов

ФИО, класс

Шифр 06м-6-4

Линия отреза

Муниципальное образование «Гурьевский муниципальный округ»
ВСЕРОССИЙСКАЯ ОЛИМПИАДА ШКОЛЬНИКОВ ПО ОБЖ

(школьный этап)

2023 – 2024 учебный год

5-6 классы

Время выполнения: 45 минут

Тестовые задания

Определите один правильный ответ.

За правильный ответ начисляется 4 балла. 0 баллов выставляется за
неправильный ответ, а также если участником отмечено более одного
ответа (в том числе правильных).

1. Пешеход

- а) всегда является участником дорожного движения
- б) не является участником дорожного движения
- в) является участником дорожного движения только в возрасте старше 16 лет
- г) не является участником дорожного движения в возрасте до 14 лет

2. Какой вид костра рекомендуется использовать только для

ночвки?

- а) «шалаш»
- б) «пирамида»
- в) «колодец»
- г) «полинезийский»

3. В октябре 1960 г. шесть кандидатов на первый полёт в космос
приступили к занятиям на тренажёре космического корабля,
названного так же, как и одна из сторон света. Как назывался
космический корабль?

- а) «Запад»
- б) «Север»
- в) «Восток»
- г) «Юг»

4. Находясь на эскалаторе, необходимо

- а) стоять справа лицом по направлению его движения
- б) стоять слева лицом по направлению его движения
- в) стоять справа боком по направлению его движения
- г) стоять слева боком по направлению его движения

4

4

4

4

1915

5. **Какая минимальная толщина льда считается безопасной для одного человека?**

- а) не менее 7 см
- б) не менее 10 см
- в) не менее 5 см
- г) не менее 12 см

6. Об обнаружении бесхозного предмета в вагоне метро в первую очередь необходимо сообщить

- а) машинисту по экстренной связи «пассажиры-машинист»
- б) в полицию по сотовому телефону
- в) дежурному по станции после прибытия на неё состава
- г) пассажирам вагона голосом

7. При переходе водёма по льду рюкзак рекомендуется повесить на

- а) оба плеча
- б) одно плечо
- в) грудь
- г) оба плеча и сцепить лямки рюкзака между собой

8. Ведущий фактор, оказывающий влияние на здоровье человека, по данным Всемирной организации здравоохранения, -

- а) наследственность
- б) состояние окружающей среды
- в) образ жизни
- г) уровень медпсихического обеспечения

9. Пострадавший поранил руку. Кровь из раны вытекает равномерно, не пульсирует, тёмно-красного цвета. Какой вид кровотечения можно заподозрить?

- а) артериальное
- б) венозное
- в) капиллярное
- г) паренхиматозное

10. Какое подручное средство рекомендуется использовать для остановки венозного кровотечения?

- а) кровоостанавливающий жгут
- б) брючный ремень
- в) чистую ткань
- г) тонкий шнур

Определите два правильных ответа.

За каждый правильный ответ начисляется 4 балла.

1. **Определите смысловое значение и область применения данного знака**

безопасности на объектах инфраструктуры ОАО «РЖД».

а) «Запрещается прикасаться. Корпус под напряжением»

б) «Самовольное открытие и задержка закрытия дверей не допускается!»

в) размещается в непосредственной близости от

входных дверей в вокзал

г) «Внимание. Опасность зажима».

д) наклеивается в тамбурах возле автоматических

дверей, ведущих на выход



2. **Определите смысловое значение и группу данного знака**

безопасности.

а) запрещающий знак

б) «Запрещается прикасаться. Опасно»

в) «Запрещается нажимать»

г) предупреждающий знак

д) «Не включать!»



3. **Костёр подя оптимально использовать для**

а) просушки вещей

б) подачи светового сигнала

в) обогрева

г) приготовления пищи

д) ночёвки

4. **Что может являться источником природной ЧС?**

а) загор

б) химическая авария

в) эпизоотия

г) обвал

д) катастрофа

5. **К признакам возникновения урагана относят**

а) резкое падение атмосферного давления

б) повышение температуры воздуха

в) резкое прекращение дождя

г) ливневые дожди

д) быстрое исчезновение грозовых облаков

6. **К опасным гидрологическим явлениям и процессам относят**

а) карст

7. В каком положении лучше держать руки, оказавшись в толпе?
- а) перед грудью
 б) перед лицом
 в) отвести сильно в стороны
 г) сцепить в замок
 д) в карманах
8. Выберите группы факторов, которые оказывают равноценное влияние на здоровье человека по данным Всемирной организации здравоохранения.
- а) образ жизни
 б) наследственность
 в) уровень медицинского обеспечения
 г) регулярность диспансеризации
 д) состояние окружающей среды
9. Какие признаки свидетельствуют о наличии у пострадавшего частичной обструкции дыхательных путей при попадании в них инородного тела?
- а) может говорить
 б) не может говорить
 в) кашляет
 г) дыхание значительно затруднено (шумное, хрипящее)
 д) дыхание отсутствует
10. Какие действия запрещены при оказании первой помощи пострадавшему с термическим ожогом?
- а) наложение нетугой повязки
 б) вскрытие ожоговых пузырей
 в) смазывание поврежденного участка жирами
 г) охлаждение поврежденного участка
 д) иммобилизация при глубоких ожогах

00

- Выберите пять правил безопасности на эскалаторе.**
1. Стой справа, лицом по направлению движения. Если нужно спуститься, то делай это с правой стороны, при этом не держись за поручень.
 2. Стой слева, лицом по направлению движения. Если нужно спуститься, то делай это с левой стороны и держись за поручень.
 3. Не наступать на ограничительную линию на ступенях и не задерживаться при спходе с эскалатора.
 4. При спходе с эскалатора остановись и осмотришься, прежде чем сделать шаг.
 5. На эскалаторе нельзя сидеть и бегать.
 6. Сидеть на ступенях эскалатора можно только по направлению движения.
 7. Не ставить вещи на ступени и поручни.
 8. На ступени и поручни можно ставить вещи, сумма измерений которых по длине, ширине и высоте не превышает 150 см.

Оценка задания. Максимальная оценка за правильное выполнение задания – 20 баллов

Задание 2

1. вне транспортного средства на
2. лице, находящемся
3. не производящее на них работу
4. в пешеходной дорожке и дороге
- 5) либо на пешеходной или

8

Оценка задания. Максимальная оценка за правильное выполнение задания – 20 баллов

Расположите предложенные фрагменты в верной последовательности, чтобы в итоге получилось определение одного из участников дорожного движения.

Задание 1

Теоретические задания 2 часть

-1	1
-2	2
+3	3
+4	4
+5	5

Задание 3

Оценка задания. Максимальная оценка за правильное выполнение задания – 20 баллов

Объекты железнодорожного транспорта являются зонами повышенной опасности, на которых действия определённые правила поведения. Укажите, какие действия запрещены, а какие необходимо выполнять с целью обеспечения безопасности на объектах железнодорожного транспорта.

<p>А. запрещённые действия</p>	<p>Б. необходимые действия</p>	<p>1. перед переходом через железнодорожные пути по пешеходному настилу обеспечивать личную зону видимости</p>	<p>2. прятаться с пассажирской платформы</p>	<p>3. ходить вдоль железнодорожных путей</p>	<p>4. подавать сигнал для остановки поезда в случаях возникновения экстренной ситуации, требующей экстренной остановки железнодорожного подвижного состава</p>	<p>5. передвигаться на самокатах и роликовых коньках</p>
--------------------------------	--------------------------------	--	--	--	--	--

16

Задание 4

Оценка задания. Максимальная оценка за правильное выполнение задания – 20 баллов

Выберите безопасные и небезопасные действия во время грозы.

<p>Б. безопасно</p> <p>5 ↑ 4 ↑ 3 ↑ 2 ↑ 1 ↑</p>	<p>10. при нахождении в воде подйти ближе к низкорослой растительности, находящейся в воде</p>
<p>А. безопасно</p> <p>6 ↑ 5 ↑ 4 ↑ 3 ↑ 2 ↑ 1 ↑</p>	<p>9. не приближаться к одиноко стоящим объектам</p> <p>8. при нахождении в воде выйти из воды и отойти от неё не менее чем на 100 м</p> <p>7. подняться на возвышенность</p> <p>6. сесть как можно ниже</p> <p>5. встать под одинокое дерево, стол сена, столб</p> <p>4. расластаться на земле</p> <p>3. сидеть в позе эмбриона</p> <p>2. прижаться спиной к стволу дерева</p> <p>1. прятаться под низкими деревьями и кустарниками</p>

16

91

- Винтовые повязки накладываются по определенным правилам. Определите, пять правил наложения бинтовых повязок, которые являются верными.
1. Во время перевязки рекомендуется стоять лицом к пострадавшему (по возможности)
 2. Расположение человека, накладывающего повязку, относительно пострадавшего не имеет значения
 3. Положение перевязываемой части тела можно менять в процессе перевязки
 4. Положение перевязываемой части тела нельзя менять в процессе перевязки
 5. Ширина бинта должна быть равна или больше диаметра перевязываемой конечности
 6. Ширина бинта должна быть меньше диаметра перевязываемой части тела
 7. Турь бинта накладываются по часовой стрелке относительно бинтуемого (преимущественно)
 8. Турь бинта накладываются всегда против часовой стрелки относительно бинтуемого
 9. Повязку следует начинать накладывать с более узкого места, постепенно переходя к более широкому
 10. Повязку следует начинать накладывать с более широкого места, постепенно переходя к более узкому

Задание 5

Оценка задания. Максимальная оценка за выполнение задания – 20 баллов

Муниципальное образование «Гурьевский муниципальный округ»
ВСЕРОССИЙСКАЯ ОЛИМПИАДА ШКОЛЬНИКОВ ПО ОБЖ

(школьный этап)

2023 – 2024 учебный год

7-8 классы

575
Время выполнения: 45 минут

Тестовые задания

Определите один правильный ответ.

За правильный ответ начисляется 2 балла. 0 баллов выставляется за неправильный ответ, а также если участником отмечено более одного ответа (в том числе правильный).

1. **Пассажир -**

а) лицо, кроме водителя, находящееся в транспортном средстве, входящее в него или выходящее из него

2 б) только лицо, находящееся в транспортном средстве и выходящее из него
в) только лицо, садящееся в транспортное средство и находящееся в нём
г) только лицо, входящее в транспортное средство и выходящее из него

2. **Какой вид костра рекомендуется использовать только для приготовления пищи?**

а) «шалаш»

б) «пирамида»

в) «колодец»

г) «полинезийский»

3. **В том случае, если космонавтов не сразу обнаружили после возвращения на Землю, до прибытия спасателей им помогает выжить**

а) SOS

б) АМС

в) ИСС

г) НАЗ

4. **На знамени МЧС России вышиты слова**

а) «Спасать, тушить, предупреждать»

б) «Предотвращение, спасение, помощь»

в) «Спасение во имя жизни - наше призвание»

г) «Учимся побеждать, предупреждать и спасать»

5. При выходе из зоны возможного химического заражения

рекомендуется двигаться

а) перпендикулярно направлению ветра

б) параллельно направлению ветра

в) по ветру

г) по диагонали относительно направления ветра

2

6. Единым номером вызова экстренных оперативных служб является
- а) 1-1-2
 - б) 1-0-3
 - в) 1-1-1
 - г) 1-0-4

7. Обнаружен бесхозный предмет. Установите минимальный радиус зоны эвакуации.

- а) 250 м
- б) 230 м
- в) 460 м
- г) 200 м

8. Канцерогенные вещества, содержащиеся в табачном дыме, приводят к развитию

- а) заболеваний сердца
- б) злокачественных новообразований
- в) заболеваний суставов
- г) сосудистой патологии

9. При частичном нарушении проходимости дыхательных путей, когда человек подавился, но может разговаривать, первую помощь

- а) нанесение 5 ударов между лопатками
- б) предложение покашлять
- в) выполнение приёма Геймлиха
- г) предложение выпить тёплой воды

10. Велосипедист упал, повредил ногу в нижней трети голени. Какое минимальное количество суставов необходимо иммобилизовать, если выявлены признаки перелома?

- а) один
- б) два
- в) три
- г) четыре

За каждый правильный ответ начисляется 2 балла.

Определите два правильных ответа.

1. Определите смысловое значение и область применения данного знака безопасности на объектах инфраструктуры ОАО «РЖД».

а) устанавливается на территории платформ железнодорожных станций и вокзалов, у переходов и переездов через железнодорожные пути


б) «Берегись поезда!»

в) устанавливается в местах прохода граждан через

железнодорожные пути

г) «Движение скоростных поездов»

д) «Переходить через железнодорожные пути опасно»



2. Определите смысловое значение и группу данного знака безопасности.


а) предупреждающий знак

б) «Ловите вещи!»

в) предписывающий знак

г) «Запрещается брать руками»

д) «Опасно. Едкие и коррозионные вещества»



3. Какие узлы рекомандуются использовать для закрепления веревок к опоре?

а) булинь

б) рейпвайн

в) «двойной проводник»

г) прусик

д) «штык»

4. Выберите параметры природной ЧС локального характера, территория которой не выходит за пределы территории объекта.

а) количество людей, погибших и (или) получивших ущерб здоровью, составляет не более 50 человек

б) размер ущерба окружающей природной среде и материальных потерь составляет не более 240 тыс. рублей

в) размер материального ущерба составляет не более 12 млн рублей

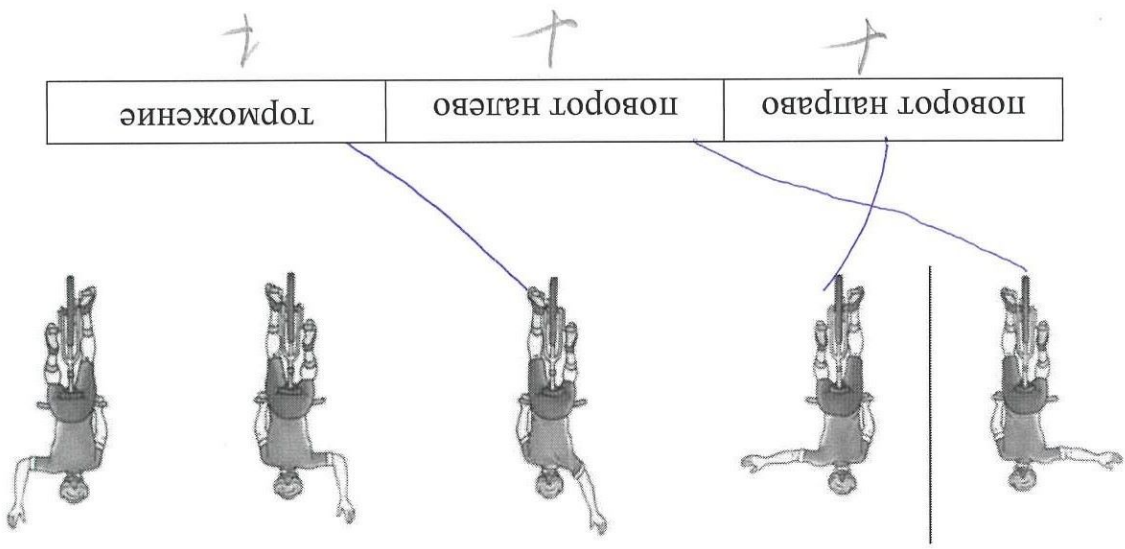
г) количество людей, погибших и (или) получивших ущерб здоровью, составляет не более 10 человек

д) количество людей, погибших и (или) получивших ущерб здоровью, составляет свыше 50 человек, но не более 500 человек

5. Какие из перечисленных служб входят в перечень экстренных оперативных служб, вызов которых осуществляется бесплатно и обязателен оператор связи пользователя услуг связи?

10. **Какие мероприятия по поддержанию проходимость дыхательных путей применяются при оказании первой помощи?**
- а) придание устойчивого бокового положения
 б) использование S-образного воздуховода
 в) интубация трахеи
 г) использование мембранной лицевой маски с обратным клапаном
 д) запрокидывание головы с подъемом подбородка
9. **При каких состояниях оказывается первая помощь?**
- а) отсутствие сознания
 б) повышение температуры тела до 39 °С
 в) повышение артериального давления
 г) отравление
 д) аллергическая реакция на коже в виде характерной сыпи (крапивница)
8. **Выберите периоды максимальной работоспособности в течение суток.**
- а) 6:00-8:00
 б) 9:00-12:00
 в) 12:00-15:00
 г) 16:00-18:00
 д) 19:00-21:00
7. **Сообщения какой тематики принимает Главное управление по противодействию экстремизму МВД России?**
- а) о скупштинге
 б) о распространении информации, наносящей вред здоровью и развитию детей (в) об актах суицида
 г) об интернет-мошенничестве
 д) о пропаганде социальной, расовой, национальной или религиозной розни
6. **Ка опасным геологическим явлениям и процессам относят**
- а) переработку берегов
 б) просадку в лесовых группах
 в) селя
 г) торфяной пожар
 д) пыльную бурю
- а) служба реагирования в чрезвычайных ситуациях
 б) служба «ЛесОлов»
 в) служба «Антитеррор»
 г) служба экстренного реагирования на землетрясение
 д) служба вневедомственной охраны МВД РФ

OK



Максимальная оценка за правильно выполненное задание – 10 баллов
 Укажите, какие сигналы рукой должен подать велосипедист для обозначения:
 - поворот направо;
 - поворот налево;
 - торможение.

Задание 2

1
2
3
4
5

А. для перевозки по	+	3 балла
Б. дорогам людей, грузов или	+	3 балла
В. оборудования,	+	3 балла
Г. установленного на нём	+	4 балла
Д. устройство, предназначенное	+	1 балл

Максимальная оценка за правильно выполненное задание – 10 баллов
 Расположите предложенные фрагменты в верной последовательности, чтобы в итоге получилось определение.

Задание 1

Теоретические задания

OK

7

Изображения	Визуальных сигналов
—	III
+	II
—	II
—	I
+	H
+	↓
+	□
+	II
+	X
+	F

Значения	Визуальных сигналов
«Операции закончены»	
«Требуется медицинская помощь»	
«Требуется карта и компас»	
«Не понял»	
«Все в порядке»	
«Судно серьезно повреждено»	
«Требуется топливо и масло»	
«Двигаемся в этом направлении»	
«Нужны медикаменты»	
«Нужны пища и вода»	

Максимальная оценка за правильное выполнение задания – 10 баллов

Сопоставьте изображения визуальных сигналов, передаваемых потерпевшими действия экипажем поисково-спасательных самолетов (вертолетов), с их значениями.

Задание 3

2

1.	Выполнить подробный осмотр пострадавшего (выявить болезненность в области живота).	4
2.	Провести обзорный осмотр пострадавшего на наличие наружного кровотечения (убедиться в его отсутствии).	4
3.	Оценить обстановку, убедиться в безопасности оказания первой помощи.	3
4.	Оказать пострадавшему психологическую помощь (разговаривать с пострадавшим до приезда скорой медицинской помощи (СМП)), передать пострадавшего бригаде СМП.	5
5.	Придать пострадавшему оптимальное положение тела, приложить холод к животу (по возможности), вызвать скорую медицинскую помощь.	2

Расставьте мероприятия первой помощи в очередности их выполнения.

Вы увидели, как турист упал с обрыва и ударился животом о камень. Удар пришёлся в левое подреберье. Пострадавший жалуется на боли в животе, слабость, головокружение. При осмотре отмечается бледность кожных покровов, частый слабый пульс.

Максимальная оценка за правильное выполнение задания – 10 баллов

Задание 4

ФИО, класс _____
Шифр _____

Шифр _____

Муниципальное образование «Урвский муниципальный округ»
ВСЕРОССИЙСКАЯ ОЛИМПИАДА ШКОЛЬНИКОВ ПО ОБЖ

(школьный этап)

2023 – 2024 учебный год

7-8 классы

Время выполнения: 45 минут

Тестовые задания

Определите один правильный ответ.

За правильный ответ начисляется 2 балла. 0 баллов выставляется за
неправильный ответ, а также если участник отмечено более одного
ответа (в том числе правильных).

2

1. Пассажир -

- а) лицо, кроме водителя, находящееся в транспортном средстве, входящее в него или выходящее из него
- б) только лицо, находящееся в транспортном средстве и выходящее из него
- в) только лицо, садящееся в транспортное средство и находящееся в нём (г) только лицо, входящее в транспортное средство и выходящее из него

2. Какой вид костра рекомендуется использовать только для приготовления пищи?

- а) «шалаш»
- б) «пирамида»
- в) «колотец»
- г) «полинезийский»

3. В том случае, если космонавтов не сразу обнаружили спасатели после возвращения на Землю, до прибытия спасателей им помогает

- а) SOS
- б) АМС
- в) ИСС
- г) НАЗ

4. На знамени МЧС России вышиты слова

- а) «Спасать, тушить, предупреждать»
- б) «Предотвращение, спасение, помощь»
- в) «Спасение во имя жизни - наше призвание»
- г) «Учимся побеждать, предупреждать и спасать»

5. При выходе из зоны возможного химического заражения рекомендуется двигаться
- а) перпендикулярно направлению ветра
 - б) параллельно направлению ветра
 - в) по ветру
 - г) по диагонали относительно направления ветра

6. Единым номером вызова экстренных оперативных служб является а) 1-1-2 б) 1-0-3 в) 1-1-1 г) 1-0-4

7. Обнаружен бесхозный предмет. Установите минимальный радиус зоны эвакуации.

- а) 250 м
- б) 230 м
- в) 460 м
- г) 200 м

8. Канцерогенные вещества, содержащиеся в табачном дыме, приводят к развитию

- а) заболеваний сердца
- б) злокачественных новообразований
- в) заболеваний суставов
- г) сосудистой патологии

9. При частичном нарушении проходимости дыхательных путей, когда человек подавился, но может разговаривать, первую помощь рекомендуется начать с

- а) нанесения 5 ударов между лопатками
- б) предложения покашлять
- в) выполнения приема Геймлиха
- г) предложения выпить тёплой воды

10. Велосипедист упал, повредил ногу в нижней трети голени. Какое минимальное количество суставов необходимо иммобилизовать, если выявлены признаки перелома?

- а) один
- б) два
- в) три
- г) четыре

За каждый правильный ответ начисляется 2 балла.

Определите два правильных ответа.

1. Определите смысловое значение и область применения данного знака безопасности на объектах инфраструктуры ОАО «РЖД».

а) устанавливается на территории платформ железнодорожных станций и вокзалов, у переходов и переездов через

б) «Берегись поезда!»

в) устанавливается в местах прохода граждан через

г) «Движение скоростных поездов»

д) «Переходить через железнодорожные пути опасно»



2. Определите смысловое значение и группу данного знака безопасности.


а) предупреждающий знак

б) «Ловите вещица»

в) подписывающий знак

г) «Запрещается брать руками»

д) «Опасно. Едкие и коррозионные вещества»



3. Какие узлы рекомендуются использовать для закрепления веревок к

а) булинь

б) рейпвайн

в) «двойной проводник»

г) прусик

д) «штык»

4. Выберите параметры природной ЧС локального характера,

территория которой не выходит за пределы территории объекта.

а) количество людей, погибших и (или) получивших ущерб здоровью,

составляет не более 50 человек

б) размер ущерба окружающей природной среде и материальных потерь

составляет не более 240 тыс. рублей

в) размер материального ущерба составляет не более 12 млн рублей

г) количество людей, погибших и (или) получивших ущерб здоровью,

составляет не более 10 человек

д) количество людей, погибших и (или) получивших ущерб здоровью,

составляет свыше 50 человек, но не более 500 человек

5. Какие из перечисленных служб входят в перечень экстренных оперативных служб, вызов которых круглосуточно и бесплатно обеспечивает оператор связи пользователю услугами связи?

- а) служба реагирования в чрезвычайных ситуациях
 б) служба «ГосОтов»
 в) служба «Антитеррор»
 г) служба экстренного реагирования на землетрясение
 д) служба вневедомственной охраны МВД РФ
6. **Кап опасным геологическим явлениям и процессам относят**
 а) переработку берегов
 б) просадку в лесовых грунтах
 в) сель
 г) торфяной пожар
 д) пыльную бурю
7. **Сообщения какой тематики принимает Главное управление по противодействию экстремизму МВД России?**
 а) о скупштинге
 б) о распространении информации, наносящей вред здоровью и развитию детей в) об актах суицида
 г) об интернет-мошенничестве
 д) о пропаганде социальной, расовой, национальной или религиозной розни
8. **Выберите периоды максимальной работоспособности в течение суток.**
 а) 6:00-8:00
 б) 9:00-12:00
 в) 12:00-15:00
 г) 16:00-18:00
 д) 19:00-21:00
9. **При каких состояниях оказывается первая помощь?**
 а) отсутствие сознания
 б) повышение температуры тела до 39 °С
 в) повышение артериального давления
 г) отравление
 д) аллергическая реакция на коже в виде характерной сыпи (крапивница)
10. **Какие мероприятия по поддержанию проходимость дыхательных путей применяются при оказании первой помощи?**
 а) придание устойчивого бокового положения
 б) использование S-образного воздуховода
 в) интубация трахеи
 г) использование мембранной маски с обратным клапаном
 д) запрокидывание головы с подёмом подбородка

Теоретические задания

Задание 1

Максимальная оценка за правильное выполнение задания – 10 баллов

Расположите предложенные фрагменты в верной последовательности, чтобы в итоге получилось определение.

1	А. для перевозки по
2	Б. дорогам людей, грузов или
3	В. оборудования,
4	Г. установленного на нём
5	Д. устройство, предназначенное

}
}
}
}
}

Задание 2

Максимальная оценка за правильное выполнение задания – 10 баллов

Укажите, какие сигналы рукой должен подать велосипедист для обозначения:

- поворот направо;
- поворот налево;
- торможение.

поворот направо	поворот налево	торможение
-----------------	----------------	------------

Задание 3

Максимальная оценка за правильно выполненное задание – 10 баллов

Сопоставьте изображения визуальных сигналов, передаваемых потерпевшими бедствие экипажам поисково-спасательных самолётов (вертолётов), с их значениями.

Изображения визуальных сигналов	Значения визуальных сигналов
F	<u>«Операции закончены»</u> 1
X	<u>«Требуется медицинская помощь»</u> 1
II	<u>«Требуется карта и компас»</u> 1
□	<u>«Не понял»</u> 1
↑	<u>«Всё в порядке»</u> 1
H	<u>«Судно серьезно повреждено»</u> 1
L	<u>«Требуется топливо и масло»</u> 1
LL	<u>«Двигаемся в этом направлении»</u> 1
JL	<u>«Нужны медикаменты»</u> 1
LLL	<u>«Нужны пища и вода»</u> 1

10

3, 2, 1, 5, 4

10

2	1. Выполнить подробный осмотр пострадавшего (выявить болезненность в области живота).
2	2. Провести обзорный осмотр пострадавшего на наличие наружного кровотечения (убедиться в его отсутствии).
2	3. Оценить обстановку, убедиться в безопасности оказания первой помощи.
2	4. Оказать пострадавшему психологическую помощь (разговаривать с пострадавшим до приезда скорой медицинской помощи (СМП)), передать пострадавшего бригаде СМП.
2	5. Придать пострадавшему оптимальное положение тела, приложить холод к животу (по возможности), вызвать скорую медицинскую помощь.

Вы увидели, как турист упал с обрыва и ударился животом о камень. Удар пришёлся в левое подреберье. Пострадавший жалуется на боли в животе, слабость, головокружение. При осмотре отмечается бледность кожных покровов, частый слабый пульс.

Максимальная оценка за правильное выполнение задания – 10 баллов

Задание 4

ФИО, класс _____ Шифр 05М9-6

Шифр 05М9-6

Муниципальное образование «Лурьевский муниципальный округ»
ВСЕРОССИЙСКАЯ ОЛИМПИАДА ШКОЛЬНИКОВ ПО ОБЖ

(школьный этап)
2023 – 2024 учебный год

9 класс

Время выполнения: 45 минут

Тестовые задания

Определите один правильный ответ.

За правильный ответ начисляется 2 балла. 0 баллов выставляется за неправильный ответ, а также если участником отмечено более одного ответа (в том числе правильных).

1. Верно ли утверждение?

- а) всегда является водителем транспортного средства
- б) не является водителем транспортного средства до 14 лет
- г) является водителем транспортного средства только в возрасте старше 18 лет

2. Какой узел является схватывающим?

- а) стреля
- б) прусик
- в) проводник
- г) штык

3. О чём предупреждает изображённый знак?



- а) о том, что движение скоростных поездов запрещено
- б) о движении скоростных поездов
- в) о том, что движение скоростных поездов осуществляется через равные интервалы времени
- г) о том, что движение скоростных поездов временно остановлено

4. Запускать небесные, или китайские, фонарики на территории всех поселений и городских округов


- а) запрещено
- б) запрещено только в ветреную погоду
- в) запрещено только в дождливую погоду
- г) разрешено только в дождливую погоду

5. Находясь на эскалаторе в метро, запрещается
- а) стоять справа лицом по направлению его движения
 - б) бежать по эскалатору
 - в) держать детей на руках
 - г) проходить с левой стороны

2

6. Для улучшения защитных свойств ватно-марлевой повязки от хлора **её рекомендуется смочить в** а) 7-9%-ном растворе яблочного уксуса б) 2%-ном растворе уксусной кислоты в) 5%-ном растворе лимонной кислоты г) 2-5%-ном растворе пищевой соды

7. Обнаружен подозрительный автомобиль. Установите минимальный радиус зоны эвакуации.



- а) 1240 м
б) 580 м
в) 920 м
г) 460 м

8. Какой витамин образуется в организме человека при воздействии на кожу солнечных лучей?

- а) А
б) К
в) Е
г) D

9. С какого мероприятия начинается оказание первой помощи пострадавшему?


- а) определение состояния пострадавшего
б) выполнение осмотра пострадавшего
в) выполнение подробного осмотра пострадавшего
г) оценка обстановки и создание безопасных условий для оказания первой помощи

10. Какая повязка является основой при наложении других видов повязок?

- а) спиральная
б) круговая (пиркулярная)
в) восьмобразная (крестообразная)
г) колосовидная

Определите два правильных ответа.

За каждый правильный ответ начисляется 2 балла.

1. Определите смысловое значение и область применения данного знака безопасности на объектах инфраструктуры ОАО «РЖД».
- 
- а) «Ирывать с платформы запрещено!»
 - б) «Стоять у края платформы не допускается!»
 - в) «Осторожно. Возможна падения с платформы»
 - г) устанавливается на вокзале
 - д) устанавливается на платформе

2. Определите смысловое значение и область применения КРАСНОГО сигнала цвета в знаках безопасности.
- а) требование обязательных действий в целях обеспечения безопасности
 - б) неопределённая опасность
 - в) предупреждение, предостережение о возможной опасности
 - г) возможная опасность
 - д) запрещение опасного поведения или действия

3. Определите, какой колёс оптимально использовать только для ноёвки и узел, используемый для крепления к опоре.
- а) барел
 - б) «пирамида»
 - в) «встречный»
 - г) «решётка»
 - д) «австрийский проводник»

4. Выберите характерные признаки приближающейся грозы.
- а) резкое увеличение атмосферного давления и температуры воздуха
 - б) ухудшение слышимости далёких звуков
 - в) резкое увеличение порывов ветра
 - г) появление изнурительной духоты
 - д) резкое понижение атмосферного давления и температуры воздуха
5. Что может являться источником природно-техногенной ЧС?
- а) транспортная авария
 - б) землетрясение
 - в) катастрофа
 - г) наводнение
 - д) эпифитотия

6. К опасным метеорологическим явлениям и процессам относят
- а) шторм

7. Сообщение какой тематики принимает управление «К» МВД России?
 а) о скупшутинге
 б) о распространении информации, наносящей вред здоровью и развитию детей
 в) об актах суицида
 г) об интернет-мошенничестве
 д) о пропаганде социальной, расовой, национальной или религиозной розни
8. Какие заболевания относят к трансмиссивным?
 а) гепатит А
 б) малярия
 в) грипп
 г) краснуха
 д) чума
9. Прохожий поскользнулся во время гололёда и упал с упором на вытянутую руку. В нижней трети предплечья появилась резкая боль, отёк. Какие суставы необходимо зафиксировать, чтобы выполнить надёжную иммобилизацию пострадавшей конечности?
 а) плечевой сустав неповреждённой руки
 б) плечевой сустав повреждённой руки
 в) локтевой сустав повреждённой руки
 г) лучезапястный сустав повреждённой руки
 д) межфаланговые суставы повреждённой руки
10. На какие анатомические части верхней конечности рекомендуются накладывать кровоостанавливающий жгут?
 а) на верхнюю треть плеча
 б) на среднюю треть плеча
 в) на нижнюю треть плеча
 г) на среднюю треть предплечья
 д) на нижнюю треть предплечья

Теоретические задания

Задание 1

Расположите предложенные фрагменты в верной последовательности, чтобы в итоге получилось определение.

12	конструктивная скорость которого не превышает 50 км/ч, имеющее		1
15	в режиме длительной нагрузки более 0,25 кВт и менее 4 кВт		2
11	двух- или трёхколёсное механическое транспортное средство, максимальная		3
14	или электродвигатель номинальной максимальной мощностью		4
13	двигатель внутреннего сгорания с рабочим объёмом, не превышающим 50 куб. см		5

10 *Максимальная оценка за правильно выполненное задание – 10 баллов*

Задание 2

Для распространения инфекционных заболеваний обязательным условием является наличие трёх звеньев - источника инфекции, механизмов (путей) передачи инфекции и восприимчивого организма. Для того, чтобы предупредить распространение инфекции, проводятся противоэпидемические мероприятия, направленные на каждое звено эпидемического процесса. Определите, на какое звено эпидемического процесса направлено каждое из перечисленных противоэпидемических мероприятий.

Противоэпидемические мероприятия		Звенья эпидемического процесса
Вакцинация	+	Источник инфекции
Применение бактерицидных ультрафиолетовых ламп	-	
Уборка помещений с применением дезинфицирующих средств	-	Механизм передачи инфекции
Выявление больных, их лечение и изоляция	-	
Применение иммуноглобулинов, иммунных сывороток	+	Восприимчивый организм

4 *Максимальная оценка за правильно выполненное задание – 10 баллов*

2

Максимальная оценка за правильное выполнение задания – 10 баллов

АХОВ	Группы АХОВ
Специальная аптечка.	Вещества с преимущественно удушающим действием, с выраженным прижигающим действием
Емкость чистого, — нехлористый фосфор	Вещества с преимущественно удушающим действием, со слабым прижигающим действием
Хлор, сероуглерод.	Вещества общеядовитого действия
Фосген, хлорциан.	Вещества, обладающие удушающим и общеядовитым действием
Вещь этикетка, — фосфор	Нейротропные яды

Ответ:

АХОВ различаются по воздействию на организм человека. Распределите по группам АХОВ: хлор, треххлористый фосфор, фосген, хлорциан, оксид углерода, синильная кислота, сернистый ангидрид, сероводород, метилмеркаптан, оксид этилена.






Задание 3

Задание 4

Международные символы предупреждения на морских пляжах представляют собой флаги, установленные на берегу.

Определите значение флагов: «Опасность! Купаться запрещено»; «Территория для сёрфинга»; «Повышенная опасность! Заходить в воду запрещено»; «Море спокойно. Безопасные условия для купания»; «Соблюдайте осторожность! Желательно купаться не в одиночку».

Ответ:

	« Опасность! Купаться запрещено Повышенная опасность! Заходить в воду запрещено»
	«Территория для сёрфинга.» +
	«Опасность! Купаться запрещено»
	«Море спокойно. Безопасные условия для купания.» +
	«Соблюдайте осторожность! Желательно купаться не в одиночку.» +

6